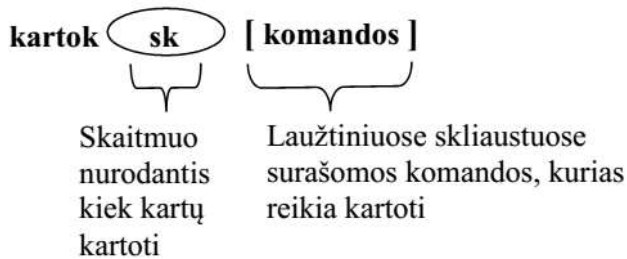
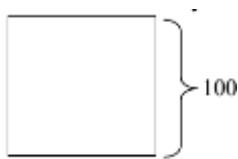


# Komanda „kartok“

Kartok-žinomo kartojimų skaičiaus komanda. Ši komanda užsirašo žemiau pateiktu sakiniu:



Pvz.: reikia nubraižyti kvadratą, kurio kraštinė yra 100 žingsnių.

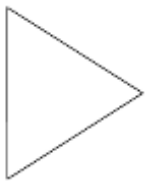


priekin 100  
kairėn 90  
priekin 10  
kairėn 90  
priekin 100  
kairėn 90  
priekin 100  
kairėn 90

**Komandas užrašytume taip:**

**kartok 4 [ priekin 100 kairėn 90 ]**

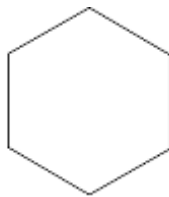
**Trikampis lygiakraštis:**



**kartok 3 [ pr 100 dš 120 ]**

**360/3**

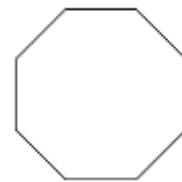
**Šešiakampis**



**kartok 6 [ pr 100 dš 60 ]**

**360/6**

**Aštuonkampis**



**kartok 8 [ pr 100 dš 45 ]**

**360/8**

**Apskritimo piešimas**

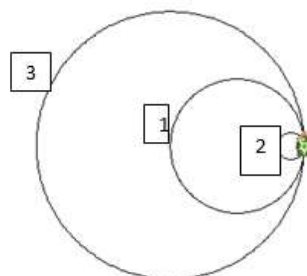
Norint gauti mažesnį už standartinį apskritimą, reikia daugiau pasisukti kairėn. Kuo didesnis skaičius kairėn, tuo mažesnis apskritimas.

**kartok 360 [ priekin 1 kairėn 5 ]**

Norint nubraižyti didesnį nei standartinis apskritimas, reikia daugiau paeiti pirmyn.

**kartok 360 [ priekin 2 kairėn 1 ]**

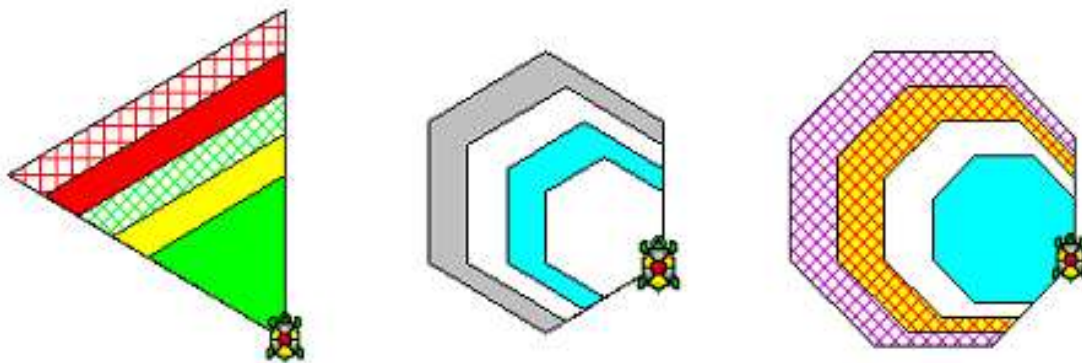
**Pavyzdžiai:**



1.kartok 360 [priekin 1 kairėn 1]  
2.kartok 360 [priekin 1 kairėn 5]  
3.kartok 360 [priekin 2 kairėn 1]

## Užduotys

1. Nupieškite ir nuspalvinkite įvairių dydžių trikampius.
2. Nupieškite ir nuspalvinkite įvairių dydžių šešiakampius.
3. Nupieškite ir nuspalvinkite įvairių dydžių aštunkampius.
4. Nupieškite ir nuspalvinkite įvairių dydžių šešioliktąjį.
5. Nupieškite penkis skirtingų dydžių apskritimus ir nuspalvinkite.



6. Nupieškite puslankių eilę.



7. Naudodami puslankių sakinius nupieškite bangą.



8. Nupieškite ir nuspalvinkite širdelę.



9. Nupieškite ir nuspalvinkite klauną.



10. Nupieškite pavaizduotas simetriškas figūras: stadionas ir kvadratai.

